

# CEB2015

**LIVRET 6 | JEUDI 18 JUIN**



N° D'ORDRE : \_\_\_\_\_

... /50



# LE DÉBUT DE LA GUERRE 1914-1918 EN BELGIQUE

## LA BATAILLE DE LIÈGE

Découvre les pages 2 à 5 du portfolio avant de répondre aux questions 1 et 2.



P. 4

### QUESTION

# 1

**ÉCRIS** le nom d'un fort qui se situe sur la rive gauche de la Meuse.

/1



P. 5

### QUESTION

# 2

**COMPARE** les deux cartes pour trouver le nom de deux villes qui faisaient partie de l'Allemagne en 1914 et qui font aujourd'hui partie de la Belgique.

**ÉCRIS** leur nom.

/1

- \_\_\_\_\_
- \_\_\_\_\_

Lis les documents des pages 6 et 7 du portfolio pour répondre aux questions 3, 4 et 5.



P. 6-7

### QUESTION

# 3

Marcel LADRIL a-t-il écrit ce qu'il a vécu lui-même ou ce que quelqu'un lui a raconté ?

**COCHE.**

/1

- ☐ Il a écrit ce qu'il a vécu.
- ☐ Il a écrit ce que quelqu'un lui a raconté.
- ☐ Rien ne me permet de le savoir.



## QUESTION

# 4

Dans le document **C**, Marcel LADRIL a écrit : « Au revoir Marcelle et Gabriel ».

Pour lui, qui sont Marcelle et Gabriel ?

**ÉCRIS.**

/1

## QUESTION

# 5

a) Dans quel(s) document(s) trouve-t-on la preuve des trois affirmations ci-dessous ?

**COCHE** une case qui convient pour chaque affirmation.

	On trouve la preuve dans le document...						
	A	B	C	D	E	F	G
Marcel LADRIL est prisonnier en aout 1914.							
Marcel LADRIL était toujours prisonnier en 1917.							
Marcel LADRIL a également vécu durant la Seconde Guerre mondiale.							

/1,5

b) Un troisième enfant est né pendant que Marcel LADRIL était prisonnier en Allemagne. **ÉCRIS** son prénom.

/0,5

c) **ÉCRIS** le prénom de l'enfant qui n'apparaît pas sur le document **B**.

/0,5

d) Le document **D** est daté du 24 septembre, mais on n’y voit pas l’année.

De quelle année s’agit-il ? **ENTOURE-LA.**

**1914 | 1915 | 1916 | 1917 | 1918**

/0,5

e) En observant le document **G**,  
**ENTOURE** le prénom et le nom d’une personne qui :

- a vécu au 20<sup>e</sup> siècle uniquement ;

**Marie THIRY | Marie LADRIL | Gabriel LADRIL | Marcel LADRIL**

- a vécu au 19<sup>e</sup> siècle et au 20<sup>e</sup> siècle ;

**Marie THIRY | Marie LADRIL | Gabriel LADRIL | Marcel LADRIL**

- a vécu au 20<sup>e</sup> siècle et au 21<sup>e</sup> siècle ;

**Marie THIRY | Marie LADRIL | Gabriel LADRIL | Marcel LADRIL**

- a vécu le premier vol d’un homme dans l’espace.

**Marie THIRY | Marie LADRIL | Gabriel LADRIL | Marcel LADRIL**

/2

f) Identifie la nature de ces traces du passé.

Pour chaque document (B, C, E, F), **TRACE une croix** dans la colonne qui convient.

	Monument	Document écrit	Photographie	Peinture	Sculpture	Document audiovisuel
Document <b>B</b>						
Document <b>C</b>						
Document <b>E</b>						
Document <b>F</b>						

/4



## QUESTION

# 6

Le document **H** a été écrit durant la première guerre mondiale.

**ÉCRIS** un indice qui le montre.

/0,5

## QUESTION

# 7

**COMPLÈTE** le tableau en observant le document **H**.

Question	Réponse	Indice (preuve) relevé sur le document H
<b>Exemple :</b> Cette carte-lettre a-t-elle été envoyée à un homme ou à une femme ?	À une femme	Le nom du destinataire : <u>Madame Marcel</u> Ladril
De quel pays ce document a-t-il été expédié ?		
De quelle province ce document a-t-il été expédié ?		
Qui a écrit cette carte-lettre ?		
Qui était le roi des Belges à l'époque de ce document ?		

/4



P. 3

## QUESTION

# 8

**COMPLÈTE** les cases du tableau pour ces deux villes.

	Ville de MALMEDY	Ville d'EUPEN
Pays	Belgique	Belgique
Province		
Communauté (française, flamande, germanophone)		
Région		

/3



P. 3

## QUESTION

# 9

Marcel LADRIL habitait la commune de **Theux**.

Quelle est la distance à vol d'oiseau qui sépare Theux de Liège ?

\_\_\_\_\_

/1

# UN PAYSAGE RURAL



P. 12

QUESTION

10

ÉCRIS 2 éléments caractéristiques d'un paysage rural, que tu vois sur la photo.

■ \_\_\_\_\_

■ \_\_\_\_\_

/2



# VUE AÉRIENNE ET VUE AU SOL



P. 9

## QUESTION

# 11

- a) Sur quelle photo distingue-t-on le mieux chacun des éléments du paysage repris dans le tableau ?

Pour chaque élément, **TRACE une croix** dans la colonne qui convient.

Éléments du paysage	Je distingue bien cet élément du paysage sur la photo...	
	A	B
Le dessus des toitures des maisons		
L'étendue d'un parking		
La pente des rues		
Les panneaux de signalisation		
La forme d'un terrain		
La plaque indiquant un nom de rue		

/3

- b) Quelle photographie utiliserais-tu si tu devais dessiner l'ensemble du réseau routier d'une ville ?

**COCHE.**

☐ La photo **A**

/0,5


☐ La photo **B**

# LA CUISINE D'HIER ET D'AUJOURD'HUI

QUESTION

12

Document A



Cuisine au  
début du  
20<sup>e</sup> siècle

Cité minière  
de Bois-du-Luc

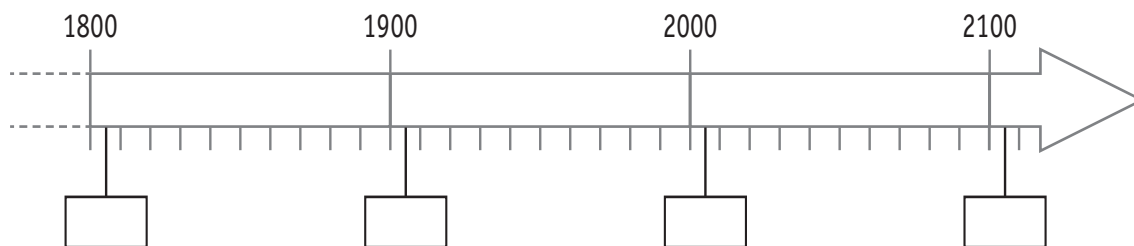
Document B



Cuisine au  
début du  
21<sup>e</sup> siècle

- a) Situe le document A et le document B sur la ligne du temps :

**ÉCRIS** les lettres A et B dans les étiquettes qui conviennent.



/1

- b) Observe les deux documents.

**ÉCRIS** trois éléments communs aux deux cuisines qui apparaissent sur ces photos.

- \_\_\_\_\_
- \_\_\_\_\_
- \_\_\_\_\_

/1,5

- c) Observe les deux documents.

**ÉCRIS** trois objets de la vie courante qui apparaissent sur le document B et qui n'apparaissent pas sur le document A.

- \_\_\_\_\_
- \_\_\_\_\_
- \_\_\_\_\_

/1,5

# LES CAPITALES EUROPÉENNES DE LA CULTURE



P. 10-11

## QUESTION

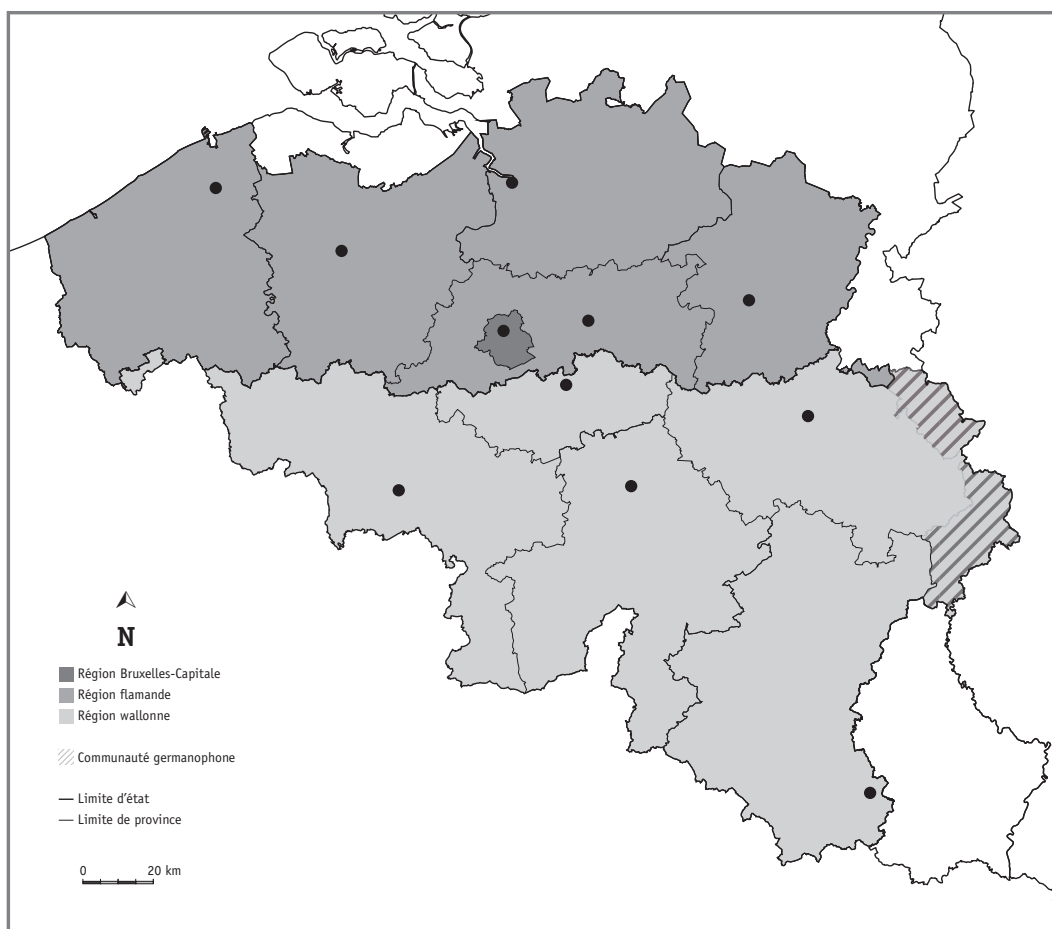
# 13

- a) Depuis 1985, **quatre villes belges** ont été désignées « Capitale européenne de la culture ».

Repère ces villes à la page 10 du portfolio, puis situe-les sur la carte ci-dessous :

**ENTOURE** les points qui correspondent à ces 4 villes.

**ÉCRIS** leur nom à côté de chaque point entouré.



/2

- b) Les quatre villes ci-dessous ont été désignées « Capitale européenne de la culture ». Certaines n'appartiennent pas à un pays de l'Union européenne.

Lesquelles ? **BARRE-LES.**

- Madrid (en 1992)
- Stavanger (en 2008)
- Porto (en 2001)
- Istanbul (en 2010)

/2

- a) Dans ces cinq pays de l'Union européenne, au moins une ville a été désignée « Capitale européenne de la culture ».

Situe ces cinq pays sur la carte ci-dessous :

**ÉCRIS leur numéro** dans la case qui convient.

- ① Italie
- ② Pays-Bas
- ③ Irlande
- ④ Suède
- ⑤ France

/2,5



- b) **ENTOURE** la case d'un pays ayant une frontière commune avec la Belgique.

/0,5

- c) **COLORIE en rouge** la case d'un pays bordé par l'océan Atlantique.

/0,5




P. 11

## QUESTION

15

Sur cette ligne du temps graduée,



- a) **ÉCRIS** l'année indiquée par l'étiquette vide. /2,5
- b) **ÉCRIS**, en dessous de cette étiquette, le nom de la ville qui a été désignée « Capitale européenne de la culture » cette année-là.
- c) **TRACE** un trait rouge pour situer l'année où Bruxelles a été désignée « Capitale européenne de la culture ».



P. 11

## QUESTION

16

Voici une page du calendrier du mois de mai 2015.

**COLORIE en jaune** tous les jours d'ouverture de l'exposition *Van Gogh au Borinage* au mois de mai 2015.

MAI 2015						
L	M	M	J	V	S	D
				1	2	3
4	5	6	7	8	9	10
11	12	13	14	15	16	17
18	19	20	21	22	23	24
25	26	27	28	29	30	31

/1



P. 11

## QUESTION

17

Voici un extrait du calendrier des expositions de Mons 2015.

Comme dans l'exemple,

- a) **ÉCRIS** la date de début et la date de fin
- de l'exposition *Mons Superstar*
  - de l'exposition *L'homme, le Dragon et la Mort*
- b) **COLORIE** les mois durant lesquels ces deux expositions sont ouvertes.

	2015												2016	
	J	F	M	A	M	J	J	A	S	O	N	D	J	F
<b>Exemple:</b> <i>Verlaine,</i> <i>cellule 252</i>										17			24	
<i>Mons Superstar</i>														
<i>L'homme,</i> <i>le Dragon</i> <i>et la Mort</i>														

/2



P. 11

## QUESTION

18

Utilise le document *Mons 2015 : Quelques grandes expositions.*

- a) Combien de temps durera l'exposition *Atopolis* ? **COCHE.**
- ☐ environ 2 mois
  - ☐ environ 3 mois
  - ☐ environ 4 mois
- b) Combien d'expositions pourrais-tu visiter pendant les vacances d'été 2015 ? **ÉCRIS.**

\_\_\_\_\_ exposition(s)

/0,5

# UTILISER UN PLAN

QUESTION


19





Tu vas tracer un itinéraire.

a) **COCHE** la proposition correcte.

Sur le plan ci-contre, le point de départ (  ) de l'itinéraire se situe :

- ☐ au nord de la Grand-Place
- ☐ au sud de la Grand-Place
- ☐ à l'est de la Grand-Place
- ☐ à l'ouest de la Grand-Place

/0,5



b) **TRACE en rouge** l'itinéraire suivant sur le plan.

**Positionne ton crayon sur le point de départ.**

- Tu te diriges vers le nord jusqu'au croisement de la rue Notre-Dame et de la rue des Fripiers.
- Là, tu tournes à droite vers la rue de Houdain et tu marches jusqu'au bout de la rue du Hautbois.
- Au bout de la rue du Hautbois, tu te diriges vers l'est, tu prends la 2<sup>e</sup> à gauche et tu marches jusqu'au prochain carrefour.

/0,5

/0,5

c) **COMPLÈTE.**

Si tu respectes cet itinéraire,  
tu arrives face au bâtiment de la \_\_\_\_\_

/0,5

# DES PAYSAGES DE BELGIQUE


## QUESTION

# 20


Où se situent ces paysages photographiés ?

Pour chaque photo, **ÉCRIS** le numéro qui correspond à sa localisation sur la carte.

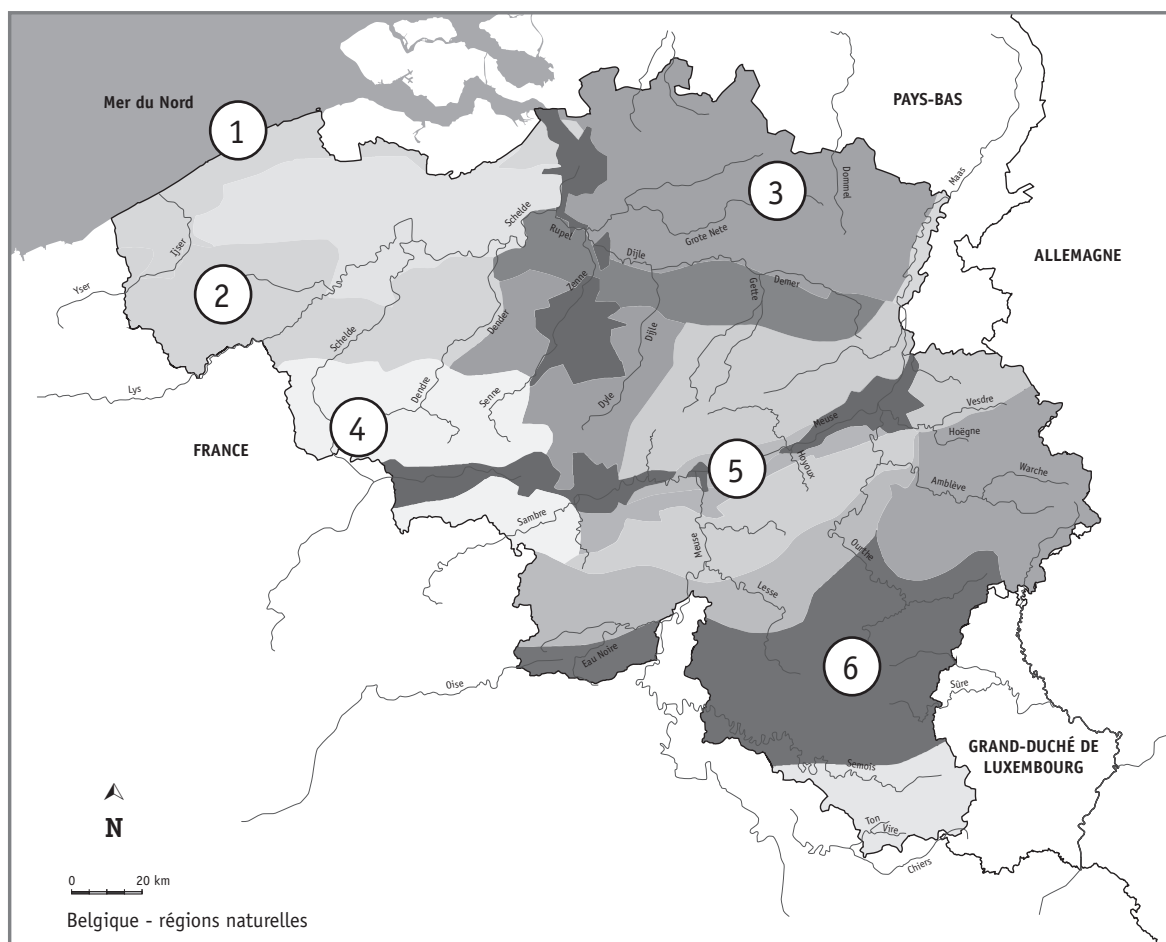
L'Ardenne



La vallée de la Meuse



Le littoral belge



/1,5

Situe l'océan Atlantique :

**ÉCRIS** « océan Atlantique » sur les trois planisphères suivants.

a) Planisphère centré sur l'Europe



/0,5

b) Planisphère centré sur l'Amérique



/0,5

c) Planisphère centré sur l'Asie



/0,5



**Fédération Wallonie-Bruxelles / Ministère  
Administration générale de l'Enseignement**

Boulevard du Jardin Botanique, 20-22 – 1000 Bruxelles

Fédération Wallonie-Bruxelles / Ministère

[www.fw-b.be](http://www.fw-b.be) – 0800 20 000

Impression : Antilope - [info@antilope.be](mailto:info@antilope.be)

Graphisme : MO - [olivier.vandevelle@cfwb.be](mailto:olivier.vandevelle@cfwb.be)

Juin 2015

Le Médiateur de la Wallonie et de la Fédération Wallonie-Bruxelles

Rue Lucien Namèche, 54 – 5000 NAMUR

0800 19 199

[courrier@mediateurcf.be](mailto:courrier@mediateurcf.be)

Éditeur responsable : Jean-Pierre HUBIN, Administrateur général

La « Fédération Wallonie-Bruxelles » est l'appellation désignant usuellement la « Communauté française » visée à l'article 2 de la Constitution